

9º ROTEIRO DE ATIVIDADES REMOTAS – COVID 19

SRM Grupo 1



ESCOLA MUNICIPAL ARTHUR DA COSTA E SILVA.

ALUNO(A): _____

Professora: Luciana de Sousa Bizetto

COMPONENTES CURRICULARES: ENSINO RELIGIOSO - LÍNGUA PORTUGUESA – MATEMÁTICA – ARTE – EDUCAÇÃO FÍSICA – GEOGRAFIA.

PERÍODO DE REALIZAÇÃO: DE 26 À 30 DE ABRIL DE 2021.

Olá queridos alunos! Já concluímos oito roteiros de atividades, onde além da postagem dos roteiros, o professor explica as atividades pelo whatsapp para que vocês possam realizá-las. Todos os roteiros até agora devem ser entregues ao seu professor sempre na sexta-feira para que sejam corrigidas as atividades e validadas sua presença no livro de chamada. Fiquem atentos às datas e entregas.
Abraços professora Luciana

COMO VAMOS ESTUDAR OS CONTEÚDOS?

Através das atividades enviadas pela professora via whats app a serem realizadas no roteiro.

COMO VAMOS REGISTRAR O QUE APRENDEMOS?

Por meio de leitura e registro no roteiro.

PARA QUÊ VAMOS ESTUDAR ESSES CONTEÚDOS?

- _ Identificar frente, atrás, direita e esquerda.
- _ Interpretar gráfico de barras.

- _ Perceber a quantidade: dobro, triplo e metade.
- _ Compreender enunciado dos exercícios.
- _ Para respeitar o meio ambiente.
- _ Compreender o que lê.
- _ Perceber fonemas.
- _ Dar opinião.

Faça o que se pede em cada exercício: **VOCÊ É CAPAZ DE IDENTIFICAR FRENTE, ATRÁS, ENTRE???**



POSIÇÃO: NA FRENTE, ATRÁS, ENTRE

1) FAÇA UMA + NO ANIMAL QUE ESTÁ ENTRE AS DUAS ÁRVORES.



2) MARQUE UM X NO ANIMAL QUE SEGUE A DIREÇÃO CONTRÁRIA À DOS OUTROS.

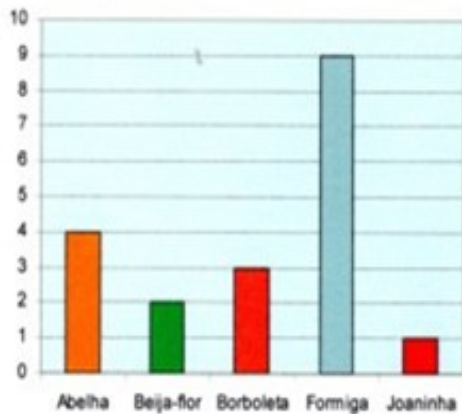


3) CIRCULE A CRIANÇA QUE ESTÁ ATRÁS.
FAÇA UM X NA CRIANÇA QUE ESTÁ NA FRENTE.



4. Rafaela fará um passeio pelo jardim, veja no gráfico abaixo os animais que ela pode ver durante o passeio e responda:

Quantidade



a) Que animal apareceu em maior quantidade?

R: _____

b) Que animal apareceu em menor quantidade?

R: _____

c) Há mais abelhas ou borboletas?

R: _____

d) Há menos formigas ou joaninhas?

R: _____

e) Quantos beija-flores Rafaela viu?

R: _____

f) Quantos animaizinhos ela contou ao todo?

R: _____

5. Pense, resolva e responda:

a) Um prédio tem 3 andares. Cada andar tem 4 apartamentos. Quantos apartamentos há no prédio?

$$3 \times 4 = \underline{\quad}$$

$$4 + 4 + 4 = \underline{\quad}$$

R: Há _____ apartamentos no prédio.

b) Vovó comprou 2 vidros de remédio com 8 comprimidos em cada um. Quantos comprimidos vovó comprou?

$$2 \times 8 = \underline{\quad}$$

$$8 + 8 = \underline{\quad}$$

R: Vovó comprou _____ comprimidos.

6. Complete

a) O dobro de 6 é _____

b) O triplo de 5 é _____

c) O dobro de 10 é _____

d) O triplo de 4 é _____

e) A metade de 10 é _____

f) A metade de 20 é _____

g) O dobro de 15 é _____

h) A metade de 18 é _____

i) A metade de 16 é _____

j) O triplo de 7 é _____

7- SEPARE AS PALAVRAS EM SÍLABAS:

ABELHA: _____

JOANINHA: _____

FORMIGA: _____

8- ESCREVA O NOME DOS ANIMAIS NA ORDEM ALFABÉTICA, OU SEJA, QUAL LETRA VEM PRIMEIRO?

| | | |
|----------|-------------|---------|
| JOANINHA | BEIJA- FLOR | FORMIGA |
|----------|-------------|---------|

1- _____

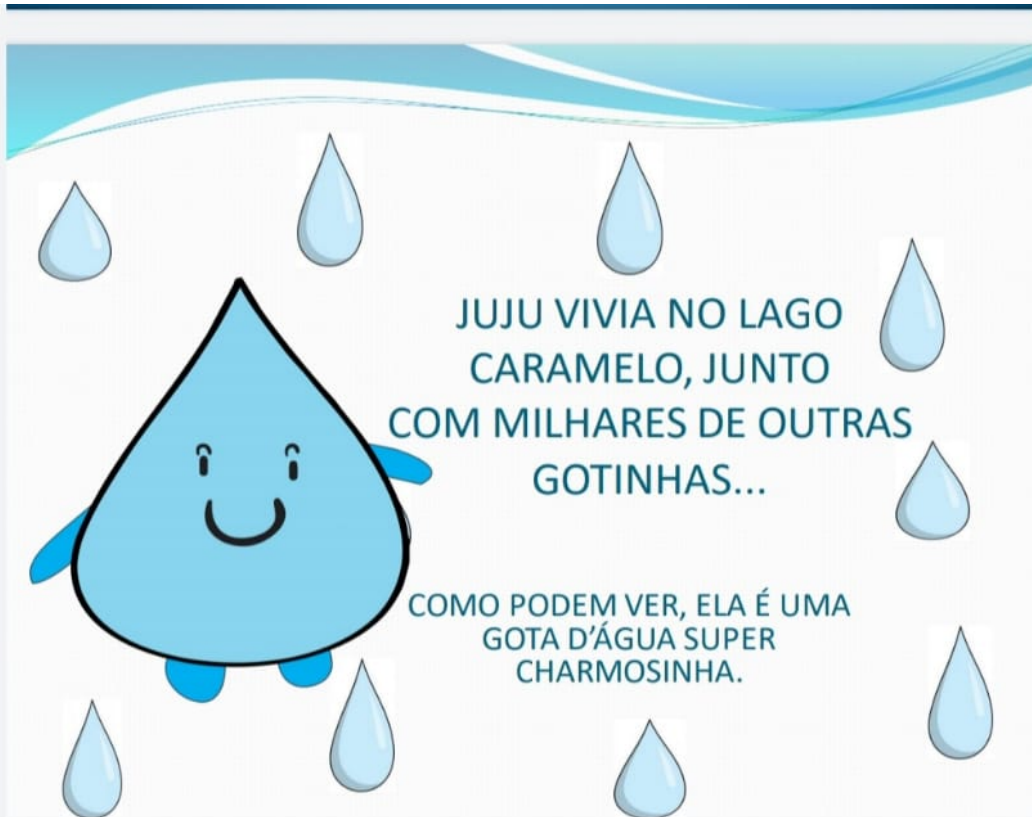
2- _____

3- _____

9- VAMOS LER UMA HISTÓRIA SUPER LEGAL!!!

PORTUGUÊS/GEOGRAFIA/ CIÊNCIAS:





JUJU VIVIA NO LAGO
CAMELO, JUNTO
COM MILHARES DE OUTRAS
GOTINHAS...

COMO PODEM VER, ELA É UMA
GOTA D'ÁGUA SUPER
CHARMOSINHA.



VIVER NO LAGO ERA DIVERTIDO E
JUJU ESTAVA ACOSTUMADA A
TODA AQUELA AGITAÇÃO.

SAPOS, PEIXINHOS, PATINHOS... TINHA ATÉ UM BURRINHO
CHAMADO NICOLAU QUE TODA TARDE APARECIA PARA
CONVERSAR COM ELA.

NAQUELA TARDE ELA CONTAVA PARA NICOLAU
QUE EM BREVE FARIA UMA VIAGEM.



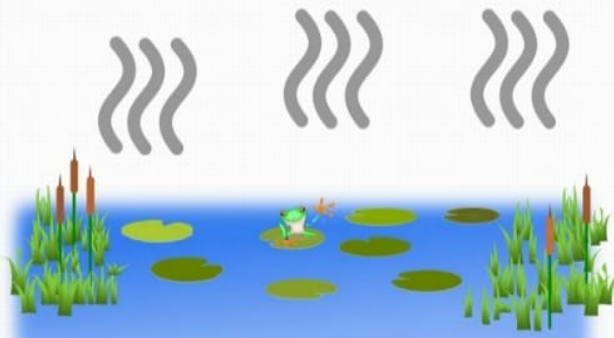
O DIA DA VIAGEM CHEGOU .
O SOL BRILHAVA FORTE NO
CÉU E ANUNCIAVA...

É HORA DE ESQUENTAR AS COISAS
POR AQUI. VAMOS VIAJAR?

JUJU E AS OUTRAS
GOTINHAS LOGO SE
ANIMARAM. TINHA
CHEGADO A HORA!



O SOL BRILHOU AINDA
MAIS FORTE E SEU CALOR
COMEÇOU A ESQUENTAR AS
GOTINHAS QUE...



EVAPORARAM E
COMEÇARAM SUA
VIAGEM.

AS GOTINHA FORAM SUBINDO... SUBINDO...
SUBINDO... ENCONTRANDO CAMADAS MAIS
FRIAS...



ATÉ , JUNTO COM OUTRAS MILHARES DE
GOTINHAS FORMAREM UMA LINDA NUVEM.

JUJU FOI DESPENCAR EM
UM LAGUINHO
TRANQUILO E
ACONCHEGANTE



E NÃO É QUE LÁ, POR UM ACASO DO DESTINO
ENCONTROU NICOLAU?

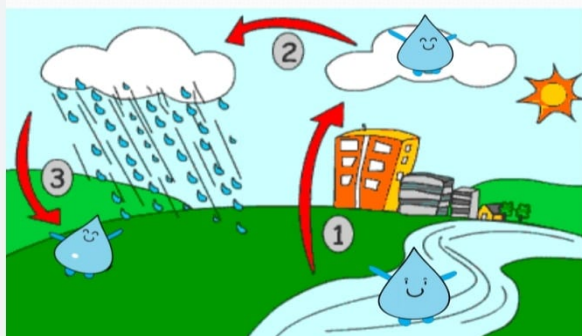
JUJU DESCOBRIU QUE NICOLAU
TAMBÉM VIAJOU.



ELE FOI VENDIDO POR SEU
DONO E PASSEOU POR MUITOS
LUGARES....

JUJU SABIA QUE OUTRAS VIAGENS VIRIAM E QUE ELA E NICOLAU SERIAM NOVAMENTE SEPARADOS, MAS ENQUANTO NÃO CHEGA À HORA ELA TRATA DE POR O PAPO EM DIA!

E NICOLAU OUVI ATENTO SOBRE AS INCRÍVEIS VIAGENS DE JUJU EM UM CONSTANTE CICLO DA ÁGUA



10- VOCÊ GOSTOU DA HISTÓRIA? POR QUE?

11- QUE OUTRO NOME VOCÊ DARIA PARA A HISTÓRIA SE PUDESSE MUDAR O TÍTULO?

12- MARQUE (X) NA FRASE QUE SE REFERE A PROTEÇÃO DA NATUREZA:

a- () DEVEMOS DESTRUIR O MEIO AMBIENTE PORQUE NÃO É IMPORTANTE A VIDA DOS ANIMAIS.

b- () OS PÁSSAROS COMEM BICHINHOS E QUIRELA.

c- () AS PESSOAS PRECISAM TER CONSCIÊNCIA E CUIDAR DAS ÁRVORES, ANIMAIS E ÁGUA.